

$$\int_0^3 (9x^2 + 2x + 4) dx = \left[3x^3 + x^2 + 4x + C \right]_0^3 = 102$$

$$e^{x+iy} = e^x (\cos y + i \sin y)$$

$$x = \frac{-b \pm \sqrt{b^2 - 4ac}}{2a}$$



$$x = \frac{-b \pm \sqrt{b^2 - 4ac}}{2a}$$



$$\int_a^b f(x) dx$$

פתרון תרגיל

הסתברות

3 יח"ל

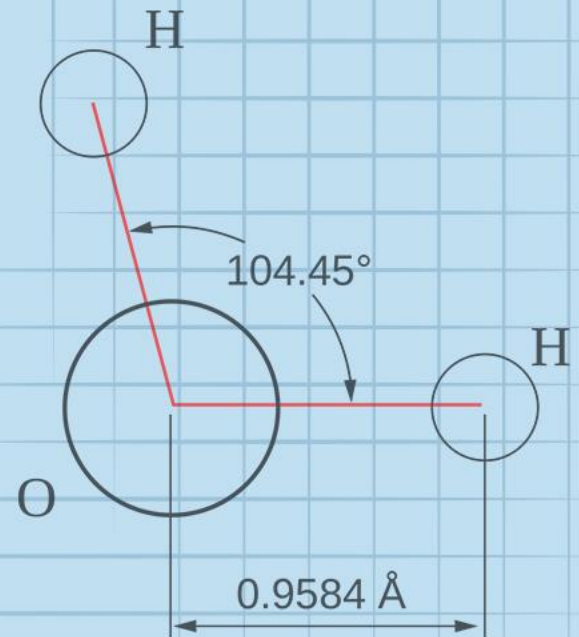
המצגת נערכה ע"י אבי בן נעים
כל הזכויות שמורות לוויסקול לימודים מקוונים בע"מ

$$\nabla \xi \cdot \frac{\partial^\epsilon \chi}{\partial p^\epsilon} + \nabla \zeta \wedge \frac{\partial^\gamma \psi}{\partial q^\gamma} = 0$$

$$\oint_{\text{全てのスペース}} (E + H \wedge T) \int_{-\infty}^{+\infty} \frac{\partial^2 \mathcal{G}}{\partial \phi \partial z} d\Omega d\tau = \frac{\Gamma(\mathcal{H}) \zeta(\Omega, \tau)}{(2\pi)^{\mathcal{H}} \mathcal{K}}$$

$$dF = \frac{\langle \Phi | \zeta | \Psi \rangle}{(2\pi)^{\mathcal{H}} c^2} \left[\gamma d\Sigma + \mathbf{b} \frac{\partial \xi}{\partial z} \wedge d\xi \right]$$

$$x = \frac{-b \pm \sqrt{b^2 - 4ac}}{2a}$$



השאלה

28. במבחן ארצי התקבלו התוצאות הבאות:

30% מהתלמידים נכשלו במבחן (קיבלו פחות מ- 55).

30% עברו את המבחן בציון שנע בין 55 ל- 70.

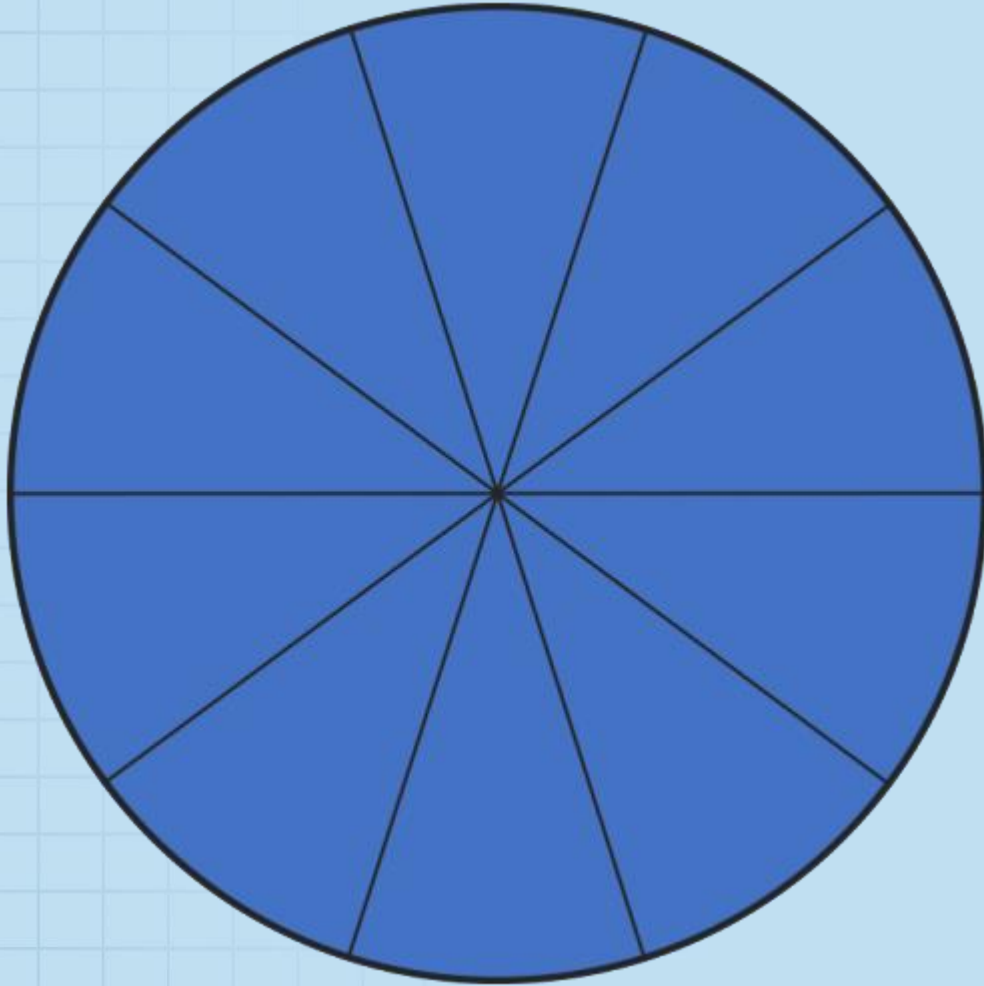
20% עברו את המבחן בציון שנע בין 71 ל- 80.

10% עברו את המבחן בציון שנע בין 81 ל- 90.

10% קיבלו ציון מעל ל- 90.

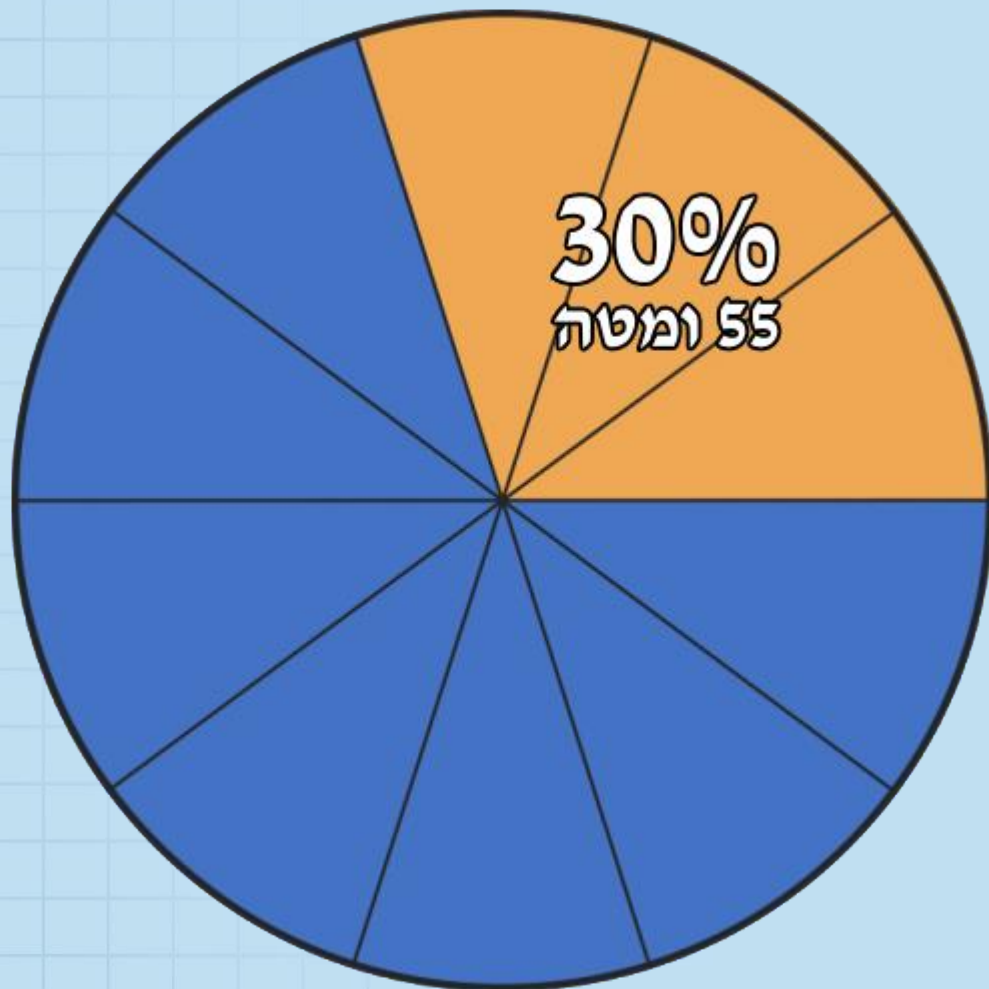
א. לפניכם עיגול המחולק ל-10 חלקים שווים.
היעזרו בחלוקה הזו וייצגו את חמש הקבוצות בדיאגרמה. רשמו בכל חלק מה הוא מייצג.

פתרון



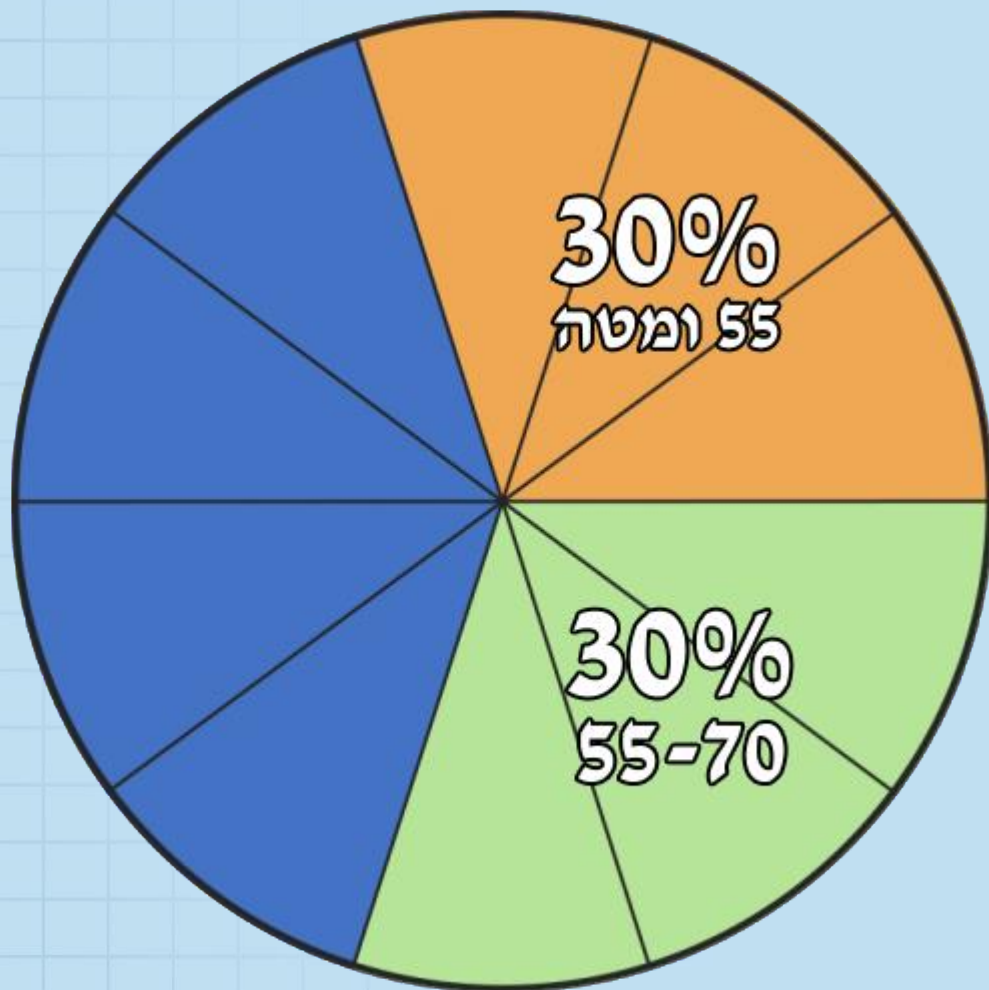
א. לפניכם עיגול המחולק ל-10 חלקים שווים. היעזרו בחלוקה הזו וייצגו את חמש הקבוצות בדיאגרמה. רשמו בכל חלק מה הוא מייצג.

פתרון



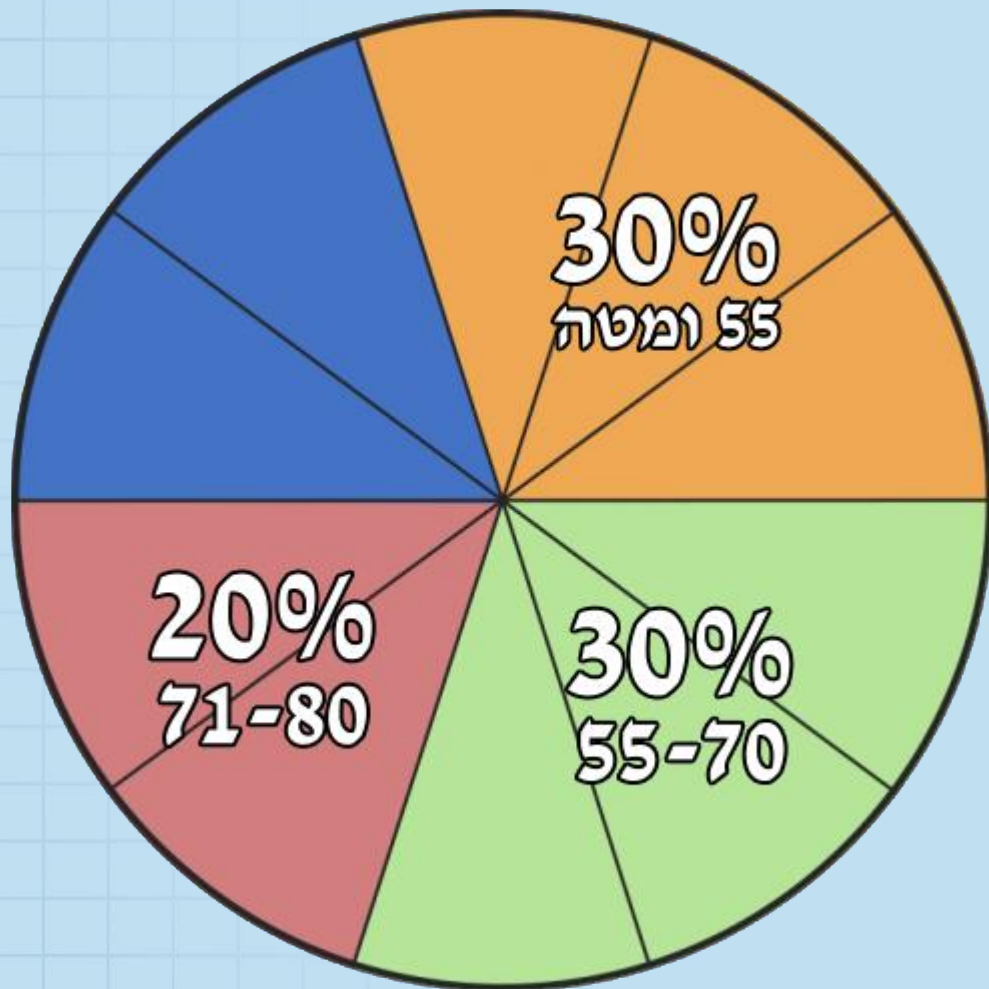
א. לפניכם עיגול המחולק ל-10 חלקים שווים. היעזרו בחלוקה הזו וייצגו את חמש הקבוצות בדיאגרמה. רשמו בכל חלק מה הוא מייצג.

פתרון



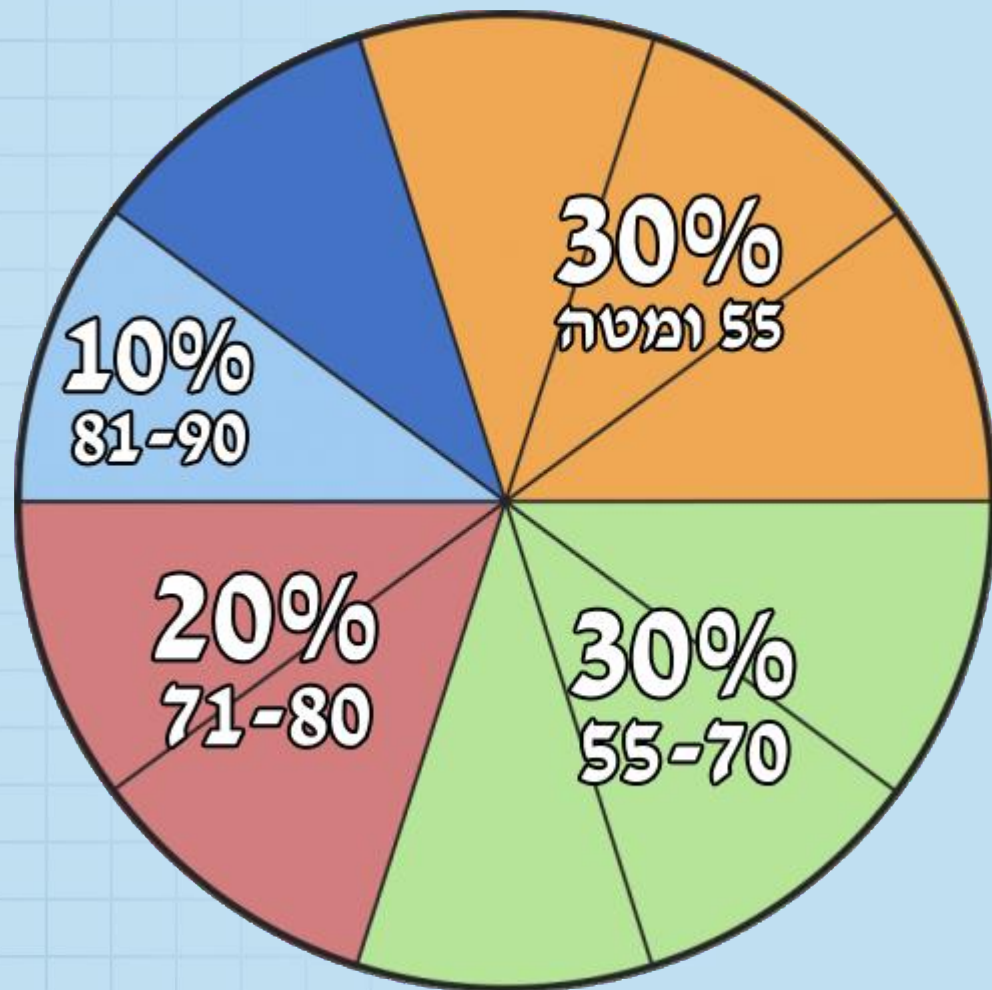
א. לפניכם עיגול המחולק ל-10 חלקים שווים. היעזרו בחלוקה הזו וייצגו את חמש הקבוצות בדיאגרמה. רשמו בכל חלק מה הוא מייצג.

פתרון



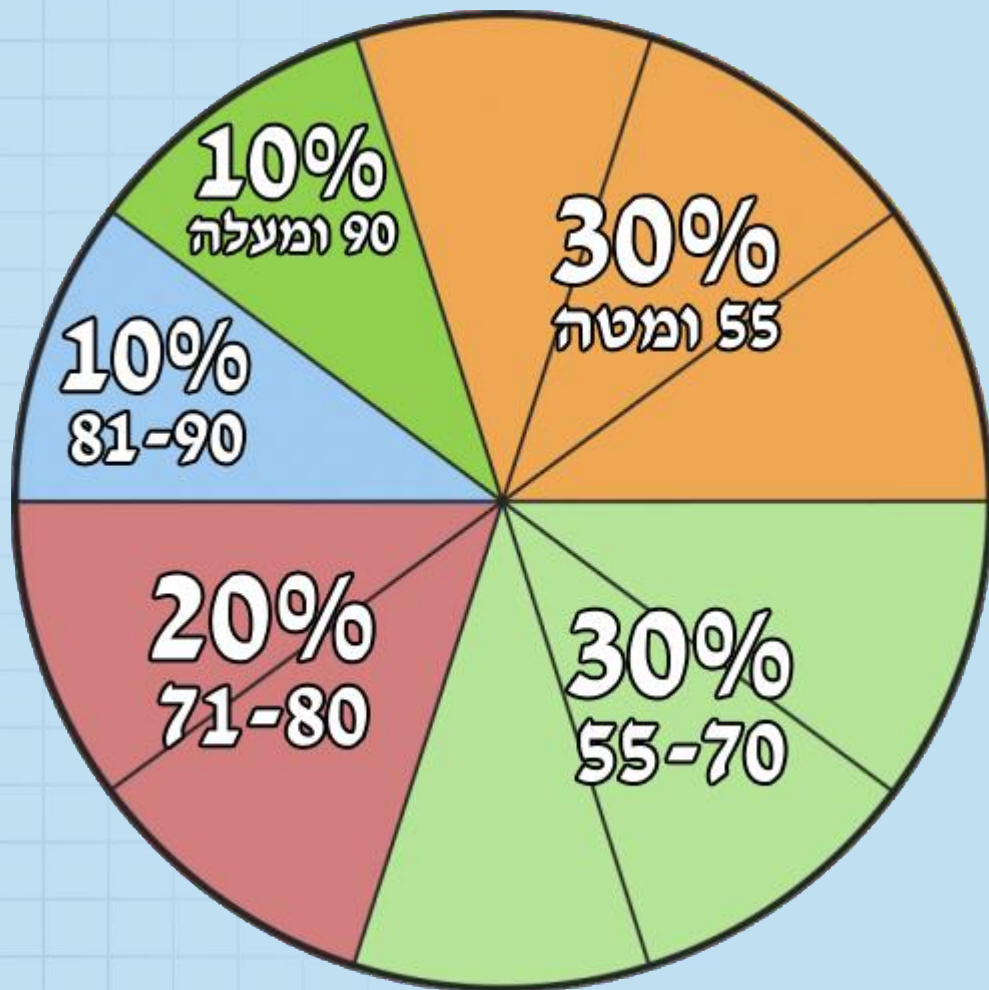
א. לפניכם עיגול המחולק ל-10 חלקים שווים. היעזרו בחלוקה הזו וייצגו את חמש הקבוצות בדיאגרמה. רשמו בכל חלק מה הוא מייצג.

פתרון



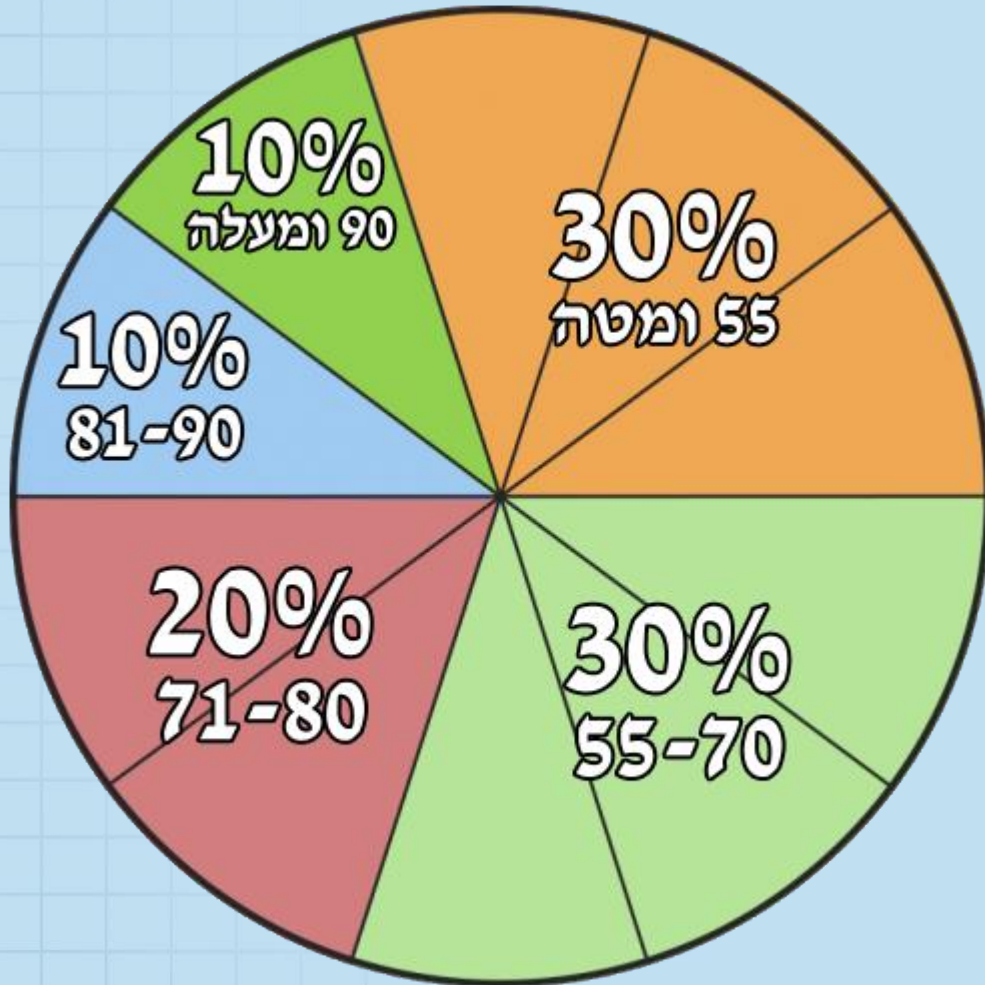
א. לפניכם עיגול המחולק ל-10 חלקים שווים. היעזרו בחלוקה הזו וייצגו את חמש הקבוצות בדיאגרמה. רשמו בכל חלק מה הוא מייצג.

פתרון



- ב. מה ההסתברות לבחור באופן אקראי, מתוך רשימת הנבחנים, שם של תלמיד שעבר את המבחן בציון שמעל 70?
- ג. מה ההסתברות לבחור באופן אקראי, מתוך רשימת הנבחנים, שם של תלמיד שנכשל בבחינה (קיבל ציון פחות מ- 55)?

פתרון

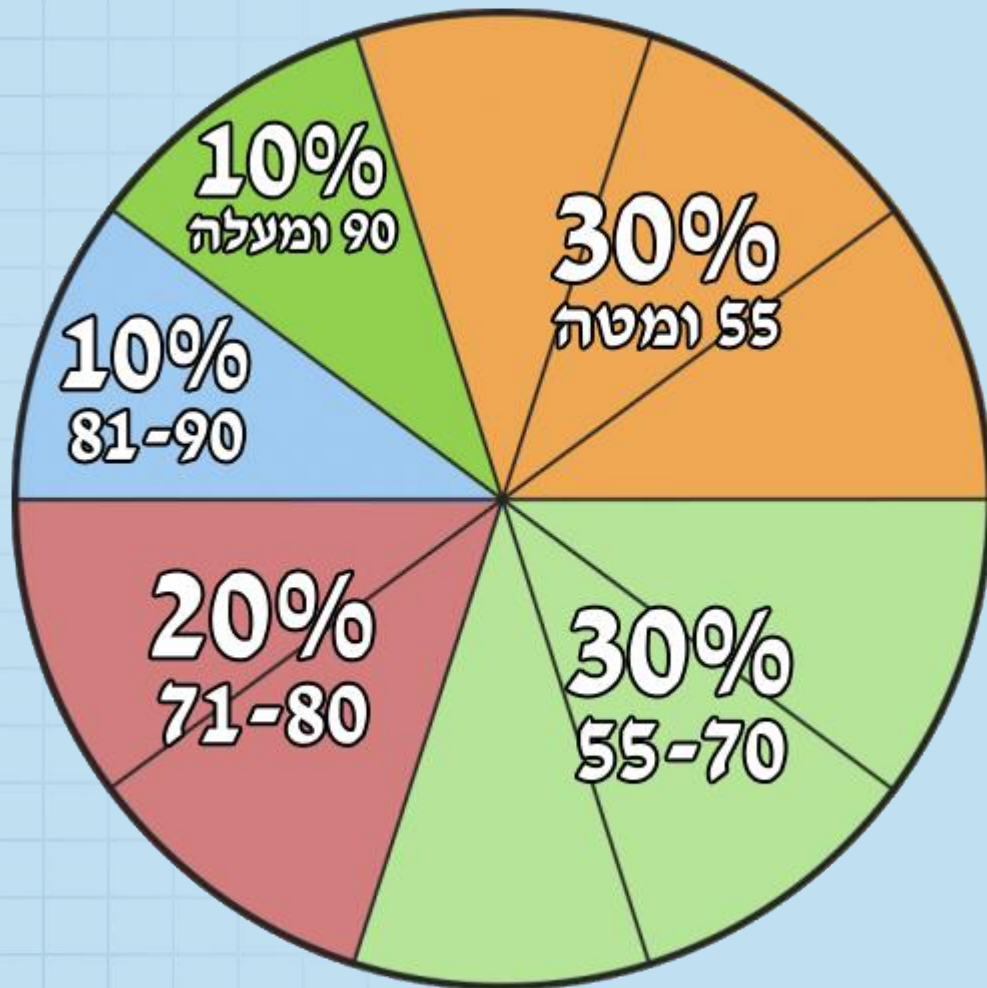


$$P_{(>70)} = 40\% = 0.4$$

$$P_{(<55)} = 30\% = 0.3$$

ד. הסבירו מדוע הממוצע אינו יכול להיות 95.

פתרון



בהצלחה